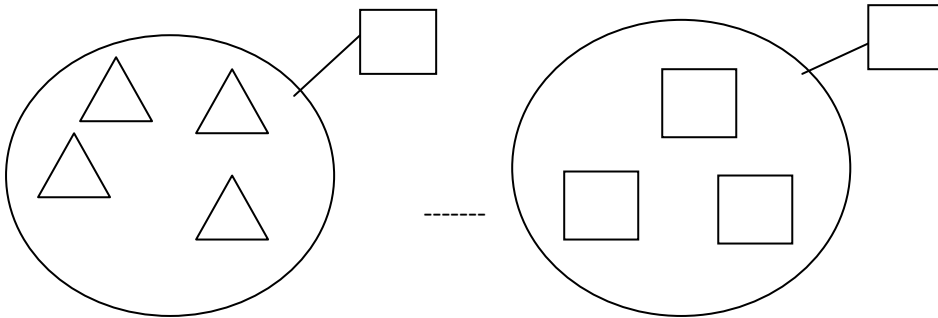




- COLLEGA OGNI ELEMENTO DEL PRIMO INSIEME CON CIASCUN ELEMENTO DEL SECONDO INSIEME
- SCRIVI IL NUMERO NEI CARTELLINI
- RISPONDI ALLE DOMANDE.



CI SONO TANTI TRIANGOLI QUANTI QUADRATI?.....

SONO DI PIU' I TRIANGOLI O SONO DI PIU' I QUADRATI?.....

QUANTI TRIANGOLI IN PIU'?....

QUANTI QUADRATI IN MENO?.....

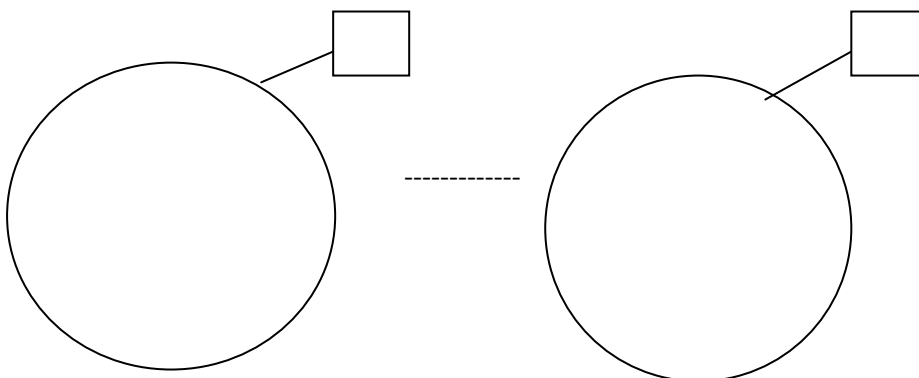
QUANTI TRIANGOLI IN TUTTO?.....

QUANTI QUADRATI IN TUTTO?.....

QUAL E' L'INSIEME PIU' POTENTE?.....

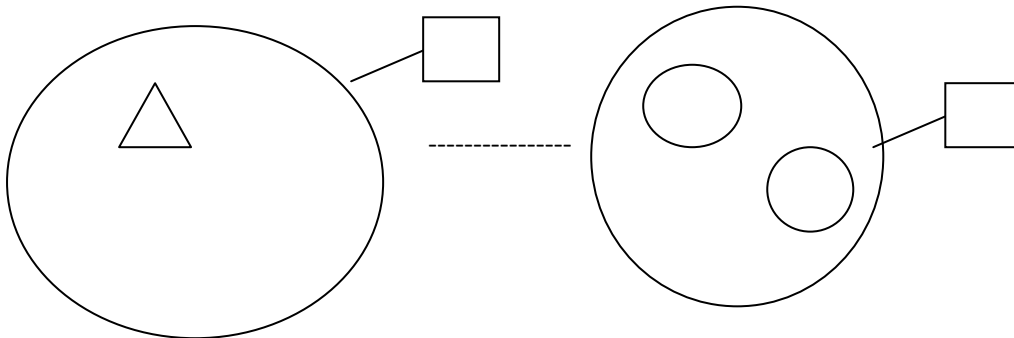
QUAL E' L'INSIEME MENO POTENTE?.....

- 
- DISEGNA TU GLI ELEMENTI DENTRO AI DIAGRAMMI, MA SEGUI LE INDICAZIONI
  - IL PRIMO INSIEME DEVE ESSERE PIU' POTENTE DEL SECONDO INSIEME





- COLLEGA OGNI ELEMENTO DEL PRIMO INSIEME CON CIASCUN ELEMENTO DEL SECONDO INSIEME
- SCRIVI IL NUMERO NEI CARTELLINI
- RISPONDI ALLE DOMANDE



CI SONO TANTI TRIANGOLI QUANTI CERCHII?.....

SONO DI PIU' I TRIANGOLI O SONO DI PIU' I CERCHI?.....

QUANTI TRIANGOLI IN PIU'?....

QUANTI CERCHI IN MENO?.....

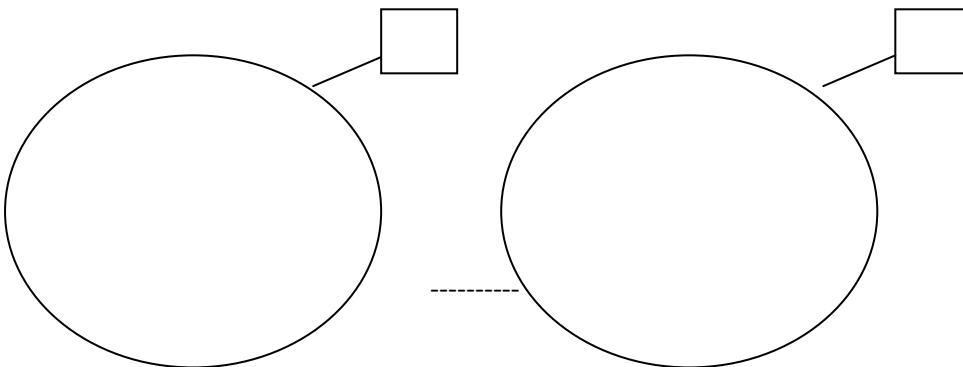
QUANTI TRIANGOLI IN TUTTO?.....

QUANTI CERCHI IN TUTTO?.....

QUAL E' L'INSIEME PIU' POTENTE?.....

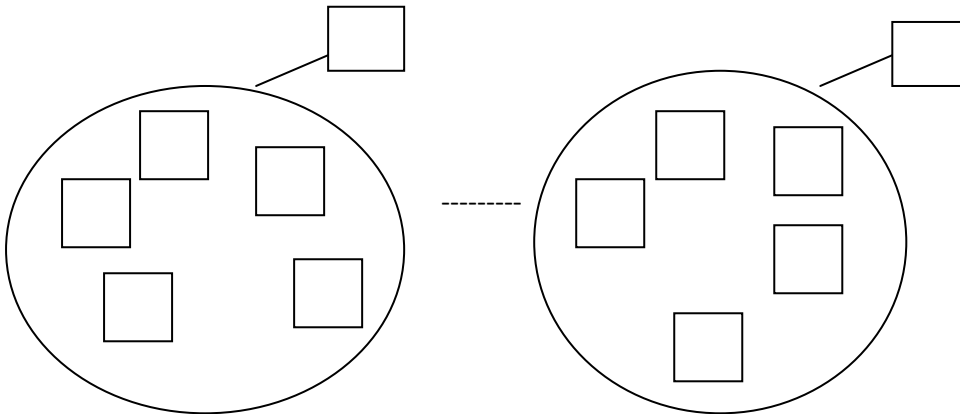
QUAL E' L'INSIEME MENO POTENTE?.....

- 
- DISEGNA TU GLI ELEMENTI DENTRO AI DIAGRAMMI, MA SEGUI LE INDICAZIONI
  - IL PRIMO INSIEME DEVE ESSERE MENO' POTENTE DEL SECONDO INSIEME





- COLLEGA OGNI ELEMENTO DEL PRIMO INSIEME CON CIASCUN ELEMENTO DEL SECONDO INSIEME
- SCRIVI IL NUMERO NEI CARTELLINI
- RISPONDI ALLE DOMANDE



CIASCUN QUADRATO DEL PRIMO INSIEME E' COLLEGATO CON OGNI QUADRATO DEL SECONDO INSIEME?.....

QUALE INSIEME E' PIU' POTENTE?.....

QUALE INSIEME E' MENO POTENTE?....

I DUE INSIEMI HANNO LA STESSA POTENZA?

GLI ELEMENTI HANNO LA STESSA FORMA?

GLI ELEMENTI HANNO LO STESSO COLORE?

GLI ELEMENTI HANNO LA STESSA GRANDEZZA?

- COLORA IL CERCHIETTO CHE INDICA LA RISPOSTA GIUSTA

I DUE INSIEMI SONO :

UGUALI

STESSA POTENZA

IL PRIMO E' MAGGIORE

IL SECONDO E' MAGGIORE



- DISEGNA DUE INSIEMI
- IL PRIMO DEVE CONTENERE 6 FIORI
- IL SECONDO DEVE CONTENERE 6 VASI
- SCRIVI IL NUMERO NEI CARTELLINI
- COLLEGA GLI ELEMENTI DEL PRIMO INSIEME CON QUELLI DEL SECONDO INSIEME
- RISPONDI ALLE DOMANDE

CIASCUN FIORE DEL PRIMO INSIEME E' COLLEGATO CON OGNI VASO DEL SECONDO INSIEME?.....

QUALE INSIEME E' PIU' POTENTE?.....

QUALE INSIEME E' MENO POTENTE?....

I DUE INSIEMI HANNO LA STESSA POTENZA?

GLI ELEMENTI HANNO LA STESSA FORMA?

GLI ELEMENTI HANNO LO STESSO COLORE?

GLI ELEMENTI HANNO LA STESSA GRANDEZZA?

COLORA IL CERCHIETTO CHE INDICA LA RISPOSTA GIUSTA

I DUE INSIEMI SONO :

- UGUALI
- STESSA POTENZA
- IL PRIMO E' MINORE
- IL SECONDO E' MINORE



ORA RITORNA SUI LAVORI CHE HAI SVOLTO PRIMA E TRA I DUE INSIEMI SCRIVI CON LA PENNA ROSSA

- MAGGIORE >
- MINORE <
- UGUALE =

-----

- PRENDI 2 REGOLI
- METTILI IN VERTICALE
- DISEGNALI SOPRA AL PAVIMENTO CHE TI HO COSTRUITO
- SOTTO A CIASCUN REGOLO SCRIVI IL NUMERO
- TRA I DUE NUMERI SCRIVI:

- MAGGIORE >
- MINORE <
- UGUALE =

\_\_\_\_\_

\_\_\_\_\_